



# EJERCICIO


Saca cada cuenta considerando a los animales que están a la derecha, que es el resultado final.




$$3 \times 2 = \underline{6}$$



$$2 \times 2 = \underline{\quad}$$



$$4 \times 2 = \underline{\quad}$$



$$3 \times 3 = \underline{\quad}$$

Más recursos en:

[www.webdelmaestro.com](http://www.webdelmaestro.com)