

# CADENAS DE OPERACIONES

Primer Nivel

? ? ? ?

**1 + 3 - 2 + 1**

**2 + 3 - 4 + 1**

**2 + 5 - 2 = 9**

NOMBRE:  FECHA:



$$6 + 2 - 1 +$$

3

$$+ 1 - 2 -$$

1

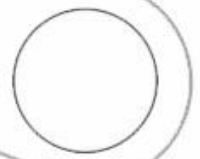
$$+ 4 - 5 +$$

1

$$- 1 + 2 -$$

3

$$- 2 + 2 =$$



NOMBRE:  FECHA:



$$3 + 2 - 1 +$$

$$+ 2 - 4 + 2$$

$$3 - 1 - 2 +$$

$$- 4 - 3 + 1$$

$$5 + 4 + 1 = \bigcirc$$



NOMBRE:  FECHA:



$$4 + 6 - 4 +$$

$$+ 3 - 2 + 1$$

$$2 - 4 - 1 +$$

$$- 5 - 5 + 6$$

$$3 + 2 - 1 = \bigcirc$$



NOMBRE:  FECHA:




3 + 1 - 2 + 3

+ 2 - 4 + 3


5 - 1 - 2 + 3

- 2 + 1 - 3

2 - 1 + 6 =



NOMBRE:  FECHA:



$$5 + 3 + 1 -$$

$$+ 3 - 1 - 2$$

$$5 + 4 + 2 -$$

$$+ 4 + 1 - 3$$

$$5 - 3 + 1 = \bigcirc$$



NOMBRE:  FECHA:



$$9 - 4 + 5 -$$

$$+ 6 - 1 + 2$$

$$3 - 2 + 1 -$$

$$- 4 + 8 + 3$$

$$5 + 2 + 1 = \bigcirc$$



NOMBRE:  FECHA:



$$4 + 2 - 3 +$$

2

$$+ 4 - 5 +$$

7

$$- 5 - 1 +$$

8

$$+ 6 - 9 +$$

2

$$+ 4 - 3 =$$





NOMBRE:  FECHA:



$$1 + 7 + 2 -$$

$$+ 5 - 4 + 6$$

$$8 - 7 - 2 +$$

$$- 4 + 5 - 6$$

$$3 + 2 - 1 = \bigcirc$$



NOMBRE:  FECHA:



$$5 + 2 - 3 -$$

$$+ 2 - 4 +$$

$$3 + 1 - 2 -$$

$$- 5 + 4 +$$

$$2 - 2 + 1 =$$

