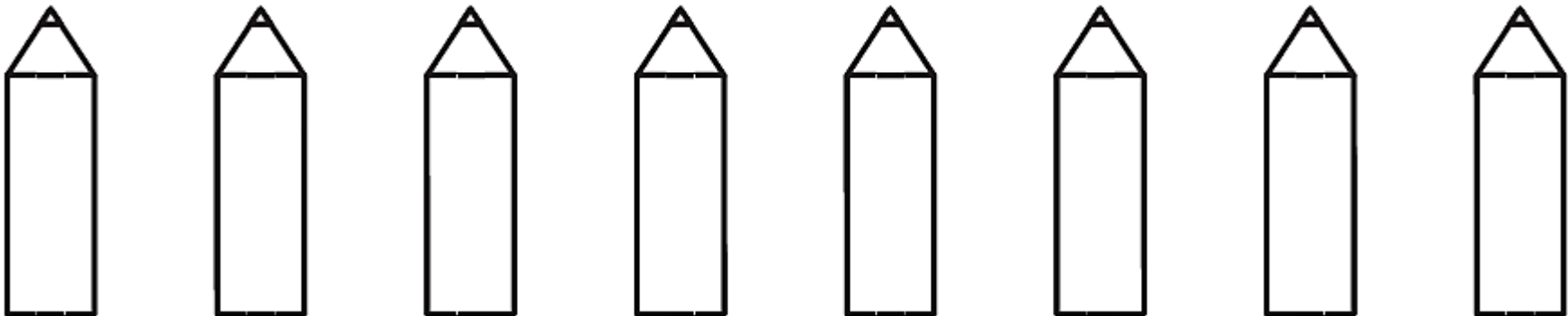



NOMBRE:

● Traza el número 8.

● Cuenta los lápices, coloréalos de distintos colores y nombra el color de cada lápiz.








NOMBRE:

● Relaciona con su número correspondiente.

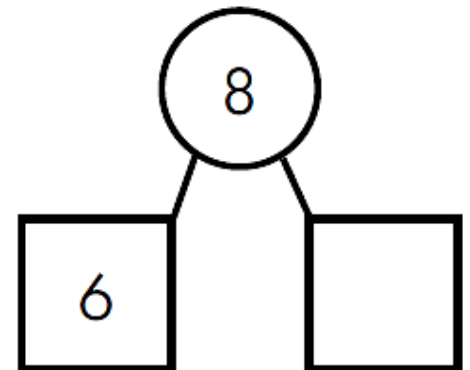
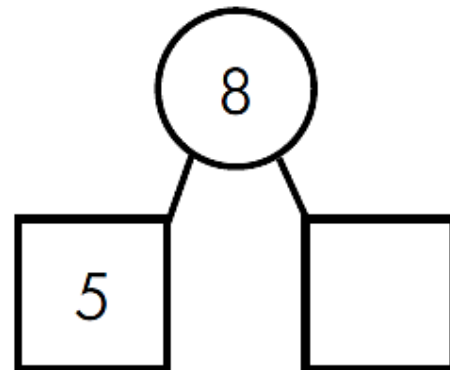
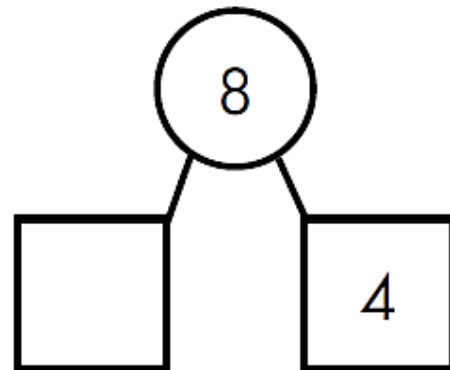
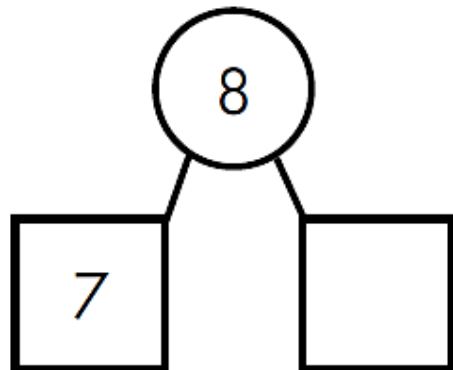
6


7

8




● Completa para que sea igual a 8.





NOMBRE:

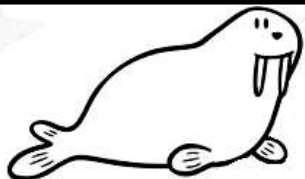
● Une cada elemento con su opuesto: grande-pequeño.



● Calcula y escribe los resultados.

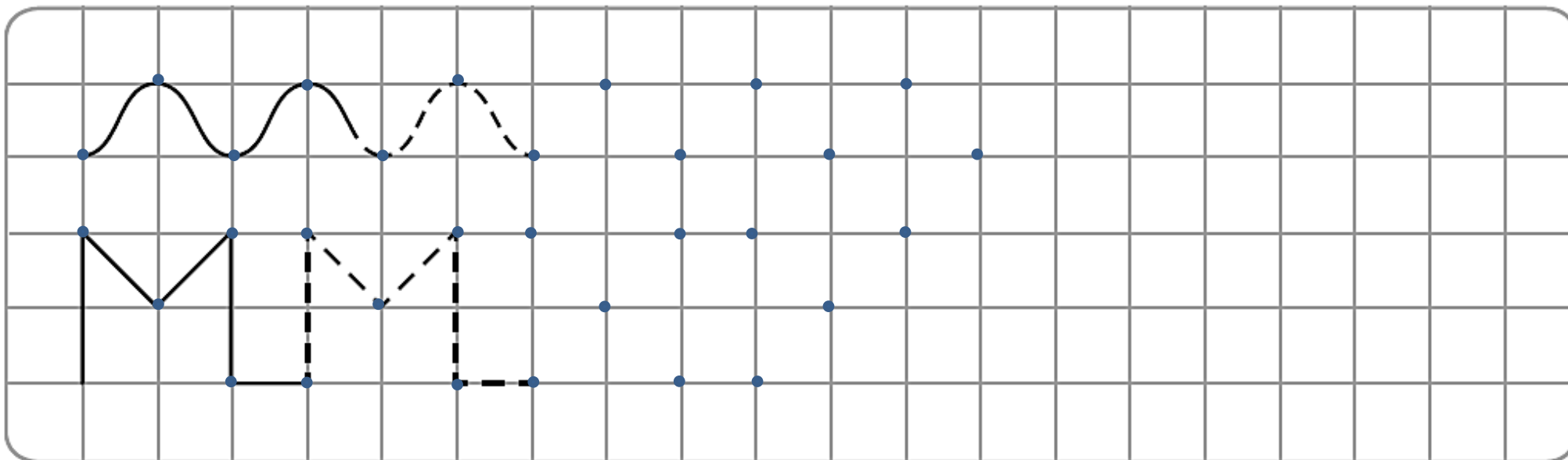


	+ 1	- 1	+ 2	- 2	+ 3	- 3
3	↓					
4						
5						







NOMBRE:

● Continúa la serie.



● El dueño o dueña del loro no es un adulto, ni es niño, ni es bajo. ¿Quién es?





NOMBRE: \_\_\_\_\_

● Rodea ocho conejitos.

● Escribe del 1 al 8 (hacia adelante).

○ 1 ○ ○ ○ ○ ○ ○ ○ ○

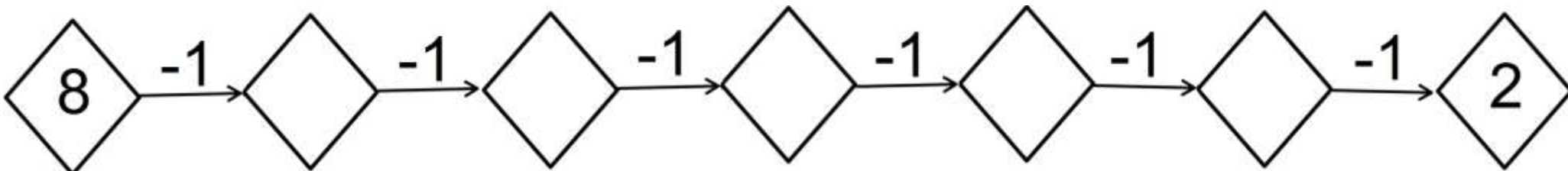
● Escribe del 8 al 1 (hacia atrás).

○ 8 ○ ○ ○ ○ ○ ○ ○ ○


● Completa los números que faltan del 1 al 8.

○ ○ ○ 4 ○ 6 ○ ○

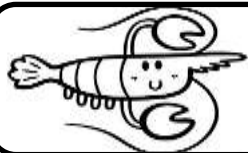
● Completa.



8







NOMBRE: \_\_\_\_\_

● Repasa y completa cuánto cuesta cada artículo.

2€ + 1€

5€ + 2€

5€ + 2€ + 1€

El  cuesta  €

La  cuesta  €

El  cuesta  €

● Rodea el artículo que cuesta más (el más caro) y pon una cruz en el que cuesta menos (el más barato).



NOMBRE: \_\_\_\_\_

● Resuelve las operaciones.

$5 + 3 = \square$	$4 + 3 = \square$	$8 - 2 = \square$	$6 + 2 = \square$	$5 - 1 = \square$
$1 + 6 = \square$	$8 - 3 = \square$	$6 - 3 = \square$	$3 + 3 = \square$	$8 - 4 = \square$

● Ayuda al perrito a llegar hasta su caseta siguiendo las claves del recorrido.

**RECORRIDO**  
1-2-4-7-6  
→