


NOMBRE:

● Colorea tantas banderas de cada fila y color como indica su número.

1




ROJO



2



AMARILLO



3




VERDE



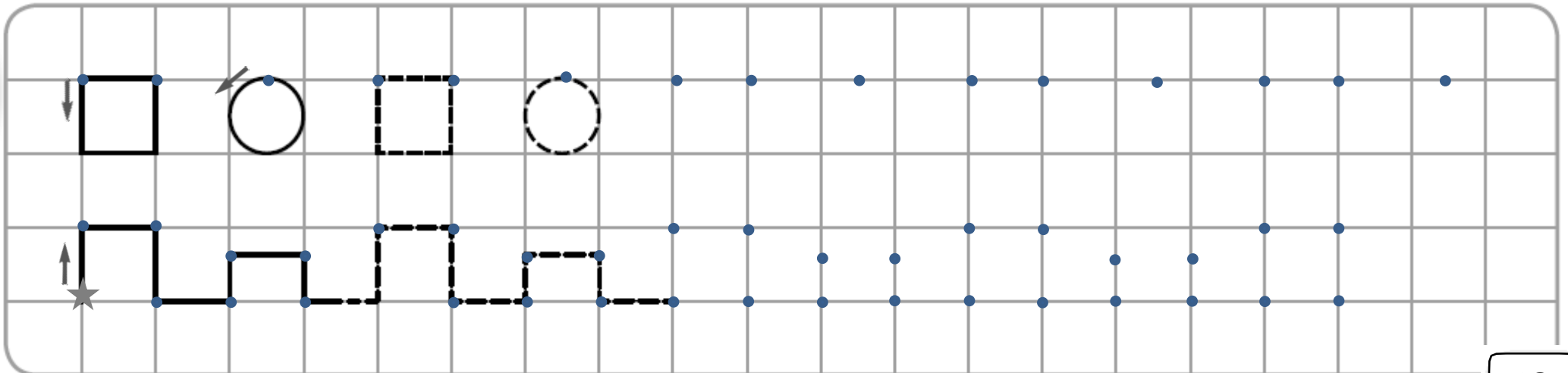
4



AZUL




● Continúa las series.



NOMBRE:

● Ayuda a Noa a llegar hasta la zona de juego.



● Colorea la casilla con el número adecuado en cada caso.

1	2	3	4
---	---	---	---

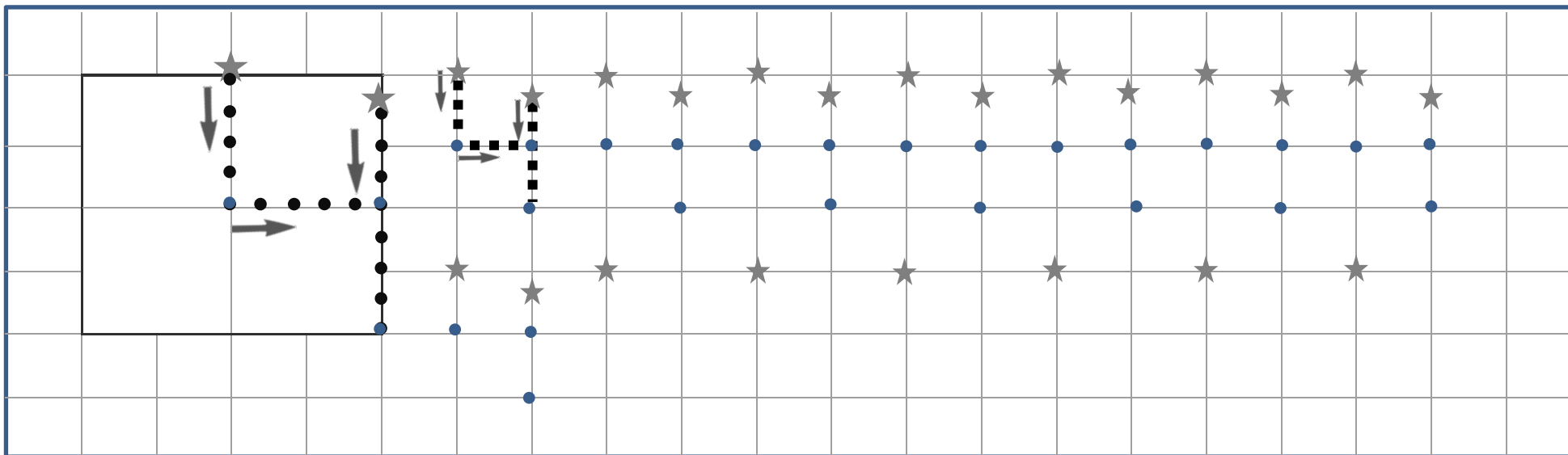
1	2	3	4
---	---	---	---

1	2	3	4	1
---	---	---	---	---

2	3	4	
---	---	---	--

NOMBRE:

● Traza el número 4.




● Dibuja el cuarto elemento de cada serie.

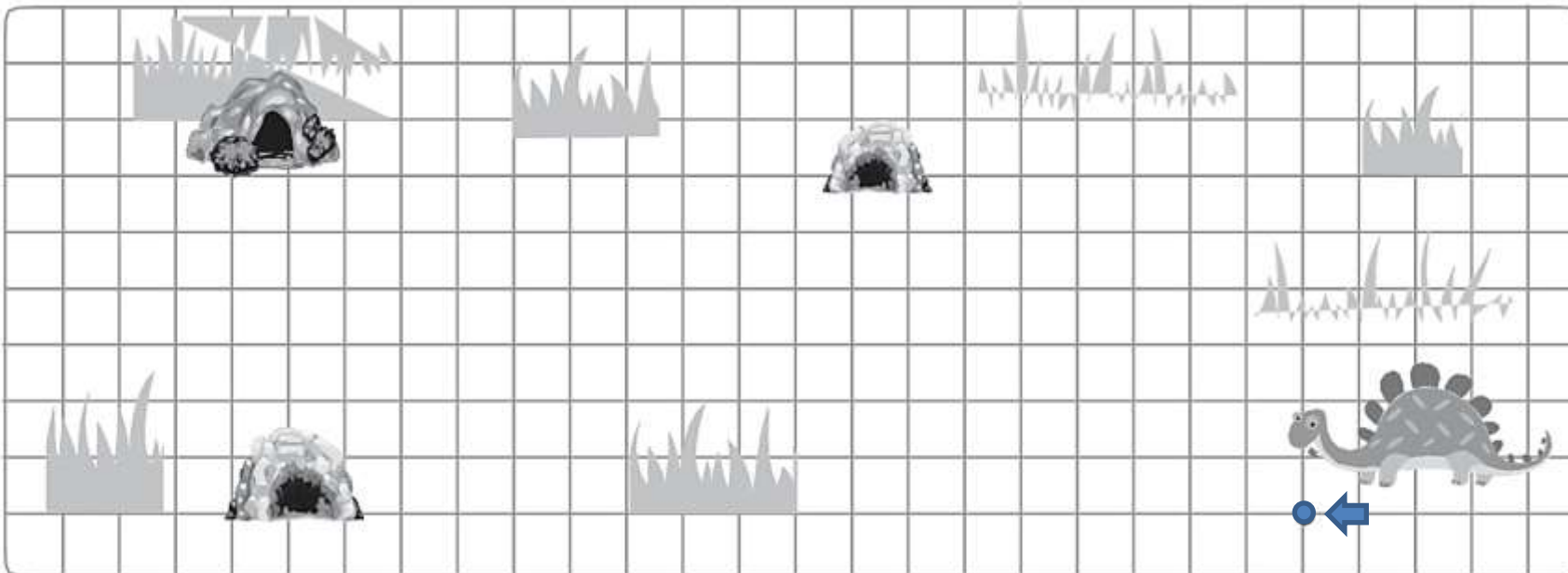


**NOMBRE:**

- ¿Cuántos conejitos hay? El primero y el cuarto se van al jardín. El segundo y el tercero se esconden en los árboles. Dibuja las líneas desde cada conejo hasta el lugar indicado.



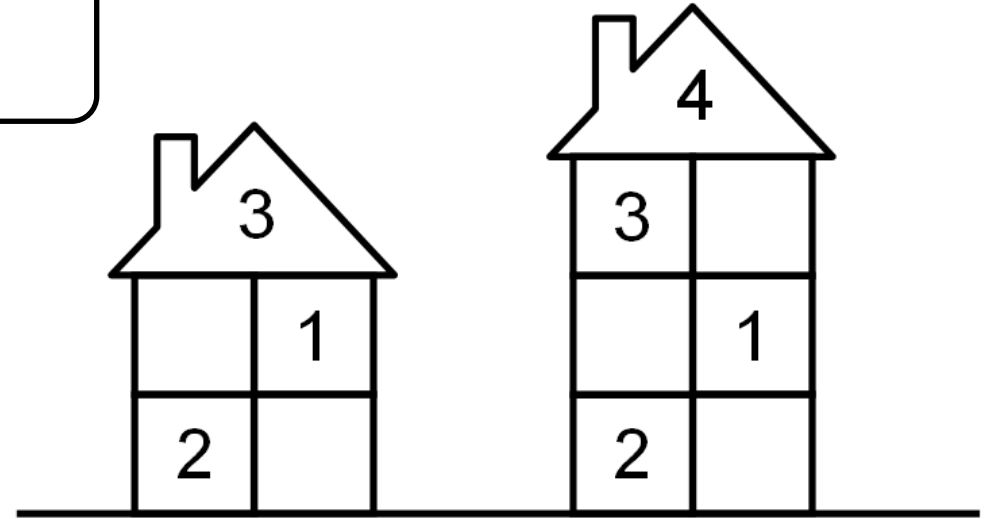
- El dinosaurio Dyno se ha perdido. Ayúdale a llegar hasta su cueva. Para ello sigue las instrucciones siguientes



- 4 casillas a la izquierda,
- 2 casillas hacia arriba,
- 3 casillas a la izquierda,
- 1 casilla hacia arriba,
- 4 casillas a la izquierda,
- 2 casillas hacia arriba,
- 3 casillas a la izquierda,
- 2 casillas abajo,
- 4 casillas a la izquierda,
- 3 casillas arriba.

NOMBRE: \_\_\_\_\_

- La suma de los números de cada piso de la casa debe ser igual que el número del techo. Escríbelos. →



- Resuelve y completa las operaciones.

$$\boxed{2} + \boxed{2} = \underline{\quad}$$


$$\boxed{4} - \boxed{2} = \underline{\quad}$$

$$\boxed{3} - \boxed{2} = \underline{\quad}$$

$$\boxed{\quad} + \boxed{\quad} = \underline{\quad}$$

$$\boxed{3} + \boxed{1} = \underline{\quad}$$

$$\boxed{\quad} - \boxed{\quad} = \underline{\quad}$$



NOMBRE:

● Completa con los signos



4  3

2  1

4  4

1  4

3  1

2  4

● Rodea el regalo que recibió Ana para su cumpleaños. No es un vehículo de transporte, ni los patines ni la bicicleta.





co co dr il o s >, <, = para recortar

