

Nombre:

Fecha:

1 Resta los números.

$100 - 26 - 14 = \underline{\quad}$ $1000 - 800 - 20 = \underline{\quad}$

$100 - 10 - 70 = \underline{\quad}$ $1000 - 400 - 50 = \underline{\quad}$

$100 - 30 - 16 = \underline{\quad}$ $1000 - 900 - 75 = \underline{\quad}$







2 Completa los números que faltan.

$100 - \underline{\quad} = 90$ $500 - \underline{\quad} = 110$ $1000 - \underline{\quad} = 450$

$100 - \underline{\quad} = 82$ $500 - \underline{\quad} = 260$ $1000 - \underline{\quad} = 730$

$100 - \underline{\quad} = 34$ $500 - \underline{\quad} = 422$ $1000 - \underline{\quad} = 660$

3 Resuelve las restas según los códigos.

					
500	150	1000	50	250	100

$\begin{matrix} \text{Snake} \\ \text{---} \end{matrix} - \begin{matrix} \text{Tiger} \\ \text{---} \end{matrix} = \underline{\quad}$ $\begin{matrix} \text{Snake} \\ \text{---} \end{matrix} - \begin{matrix} \text{Walrus} \\ \text{---} \end{matrix} = \underline{\quad}$

$\begin{matrix} \text{Seal} \\ \text{---} \end{matrix} - \begin{matrix} \text{Tiger} \\ \text{---} \end{matrix} = \underline{\quad}$ $\begin{matrix} \text{Sheep} \\ \text{---} \end{matrix} - \begin{matrix} \text{Walrus} \\ \text{---} \end{matrix} = \underline{\quad}$