

NOMBRE:

FECHA:


PROBLEMA

Ana y Carlos han hecho un safari con sus padres. En el viaje han visto 7 leones, 4 rinocerontes, 2 leopardos, 1 gorila y 5 tigres.



1º) ¿Cuántos animales han visto en el safari?

2º) ¿Cuántos leones hay más que leopardos?

Datos:



Operaciones:

Todos suman:	
 -  =	

Solución:

1º) Han visto en total animales en el safari.

2º) Hay leones más que leopardos.