

Mide con el transportador de ángulos y colorea los ángulos de cada triángulo según el código de la derecha. Después mide sus lados y une cada triángulo con la clasificación a la que pertenece.

Obtusángulo
y escaleno

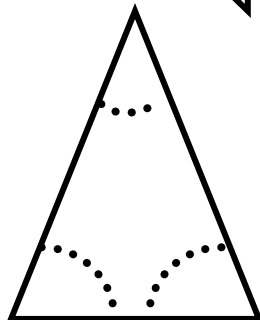
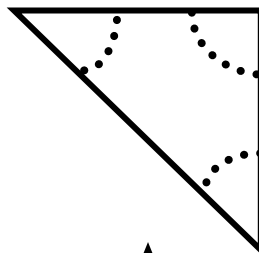
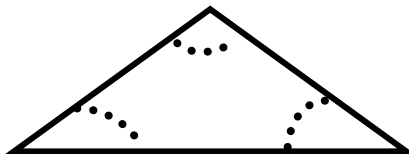
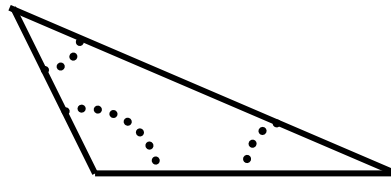
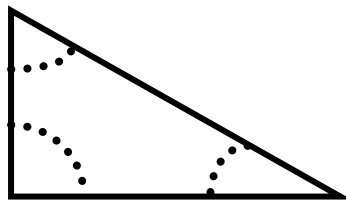
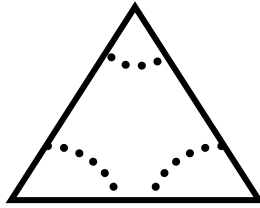
Equilátero y
acutángulo

Rectángulo
y escaleno

Rectángulo

Rectángulo
e isósceles

Acutángulo
e isósceles



Ángulos rectos:
color verde.

Ángulos agudos:
color rojo.

Ángulos obtusos:
color amarillo.

¿Cuántos triángulos hay?

Completa:

Equiláteros

Isósceles

Escalenos

Rectángulos

Acutángulos

Obtusángulos