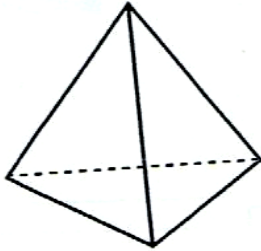


Pirámides

Colorea las pirámides. Escribe debajo de cada pirámide su nombre.

Después contesta:

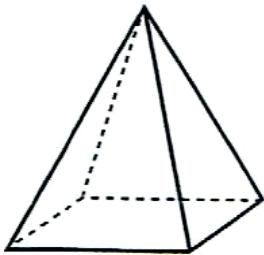


Número de caras laterales

Número de bases ¿Qué polígono forma

su base ?

Número de vértices Número de aristas

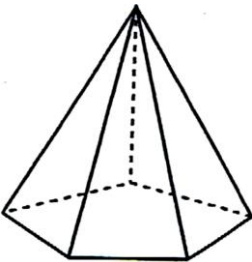


Número de caras laterales

Número de bases ¿Qué polígono forma

su base ?

Número de vértices Número de aristas

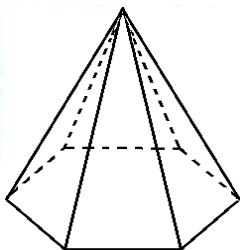


Número de caras laterales

Número de bases ¿Qué polígono forma

su base ?

Número de vértices Número de aristas



Número de caras laterales

Número de bases ¿Qué polígono forma

su base ?

Número de vértices Número de aristas