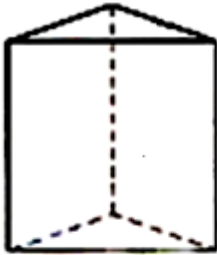


Prismas

Colorea los prismas. Escribe debajo de cada prisma su nombre.

Después contesta:

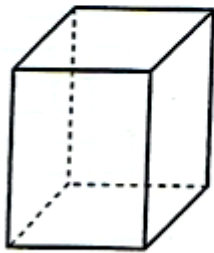


Número de caras laterales

Número de bases ¿Qué polígono forma

sus bases?

Número de vértices Número de aristas

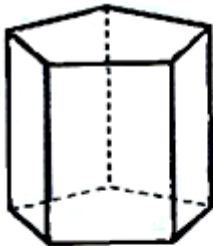


Número de caras laterales

Número de bases ¿Qué polígono forma

sus bases?

Número de vértices Número de aristas

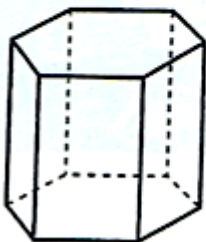


Número de caras laterales

Número de bases ¿Qué polígono forma

sus bases?

Número de vértices Número de aristas



Número de caras laterales

Número de bases ¿Qué polígono forma

sus bases?

Número de vértices Número de aristas