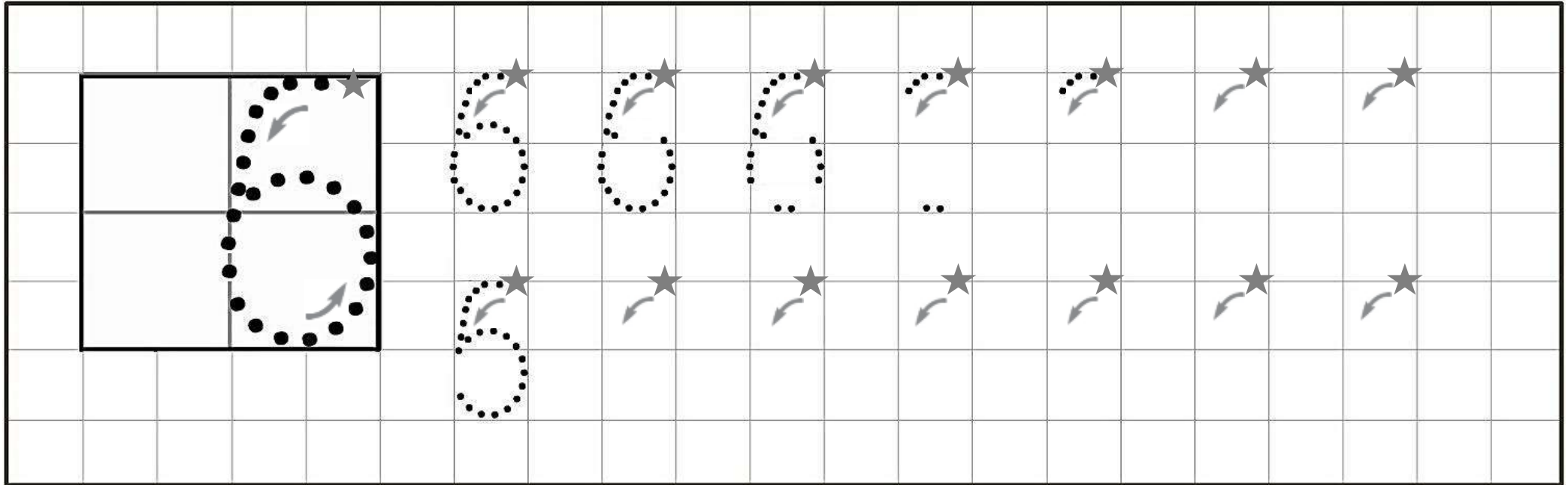


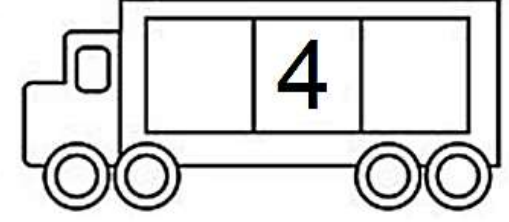
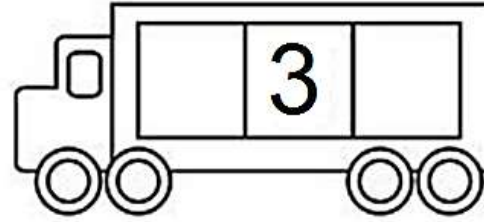
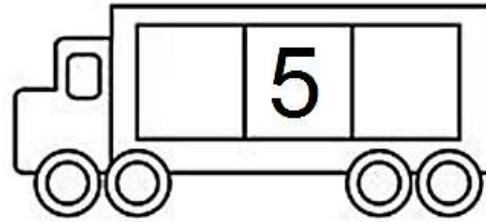
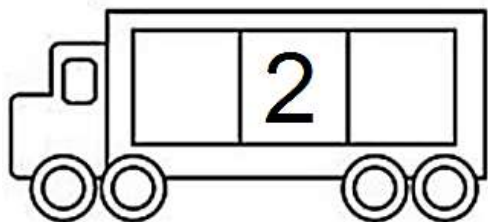


NOMBRE:

● Traza el número 6.



● Escribe los números que van antes y después.





NOMBRE:

• ¿Qué quiere ser de mayor cada niño? ¿Cuáles serán sus profesiones?


médico

bombero

bailarina

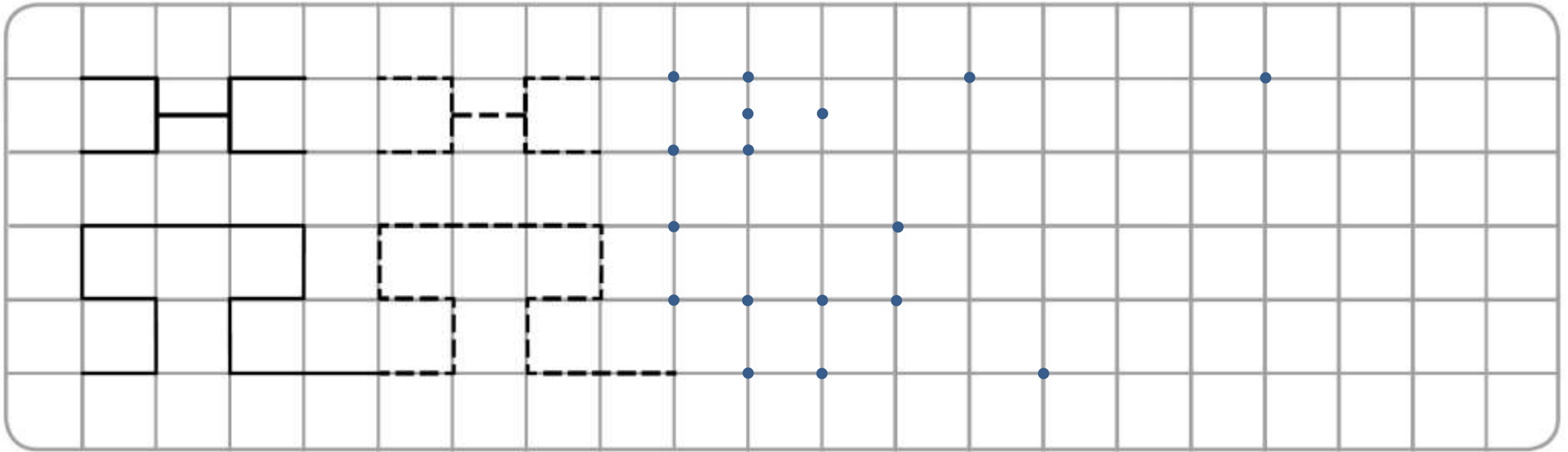
• Completa para que sea igual a 6.

	6		6		6		6	
5			4	3		2		
								1




NOMBRE:

● Continúa la serie.




● ¿Cuántos hay? Rodea el número en cada caso.


© Copyright WEBDELMAESTRO.COM




4	5	6
---	---	---



4	5	6
---	---	---



4	5	6
---	---	---




NOMBRE:

- Coloca a los niños y niñas encima de cada pódium según su altura, comenzando por el más alto/a en el número 1 y terminando con el más bajo/a en el 4.

Traza líneas desde cada niño/a al lugar correcto.



- Dibuja 6 manzanas.



- Completa.

	+1	-1	+2	-2
3	↓			
4	→			



NOMBRE: _____

● Escribe el signo $<$ $=$ $>$ en cada caso.

● Completa para que la suma sea igual a 6.

○○○○○○
6
4

○○○○○○
6
3

○○○○○○
6
2

○○○○○○
6
1

○○○○○○
6
0

○○○○○○
6
5

6 3

4 1

3 5

6 6

4 5

2 6

● Tacha el elemento que sobra en cada serie.



 **NOMBRE:** _____

● Escribe del 1 al 6 (hacia adelante).

— (1) — () — () — () — () — (6) —

● Escribe del 6 al 1 (hacia atrás).

— (6) — () — () — () — () — (1) —

● Escribe los números que faltan.

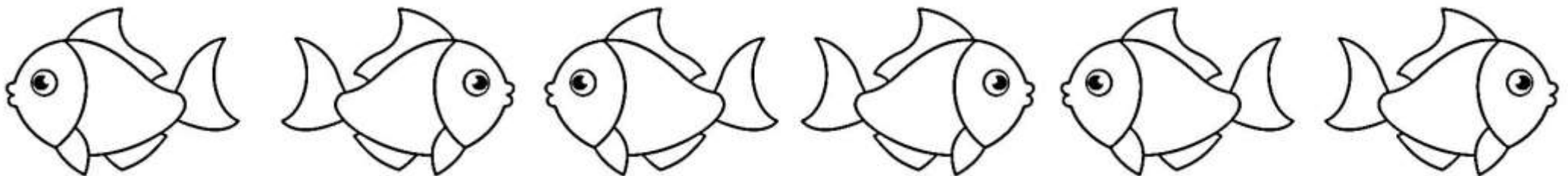
— () — (2) — () — () — (5) — () —

● Busca y rodea los números que suman 6.

6

5	1	6	0
4	3	3	2
3	4	2	5
2	4	3	3

● ¿Cuántos peces hay en la imagen? Colorea el tercer pez de color azul y los demás de otros colores. ¿Qué colores has usado?





NOMBRE: _____

● Resuelve las operaciones.

$3 + 3 =$

$3 + 2 =$

$6 - 2 =$

$2 + 2 =$

$4 - 2 =$

$1 + 4 =$

$6 - 3 =$

$4 - 3 =$

$4 + 2 =$

$6 - 4 =$

● ¿Qué sucede primero? ¿Qué sucede después? Ordena las secuencias del 1 al 3.

