

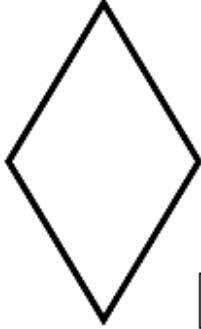

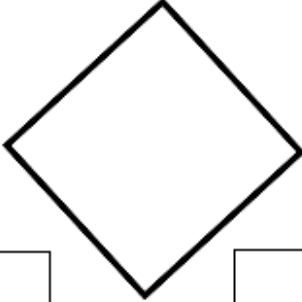
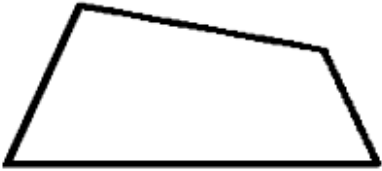

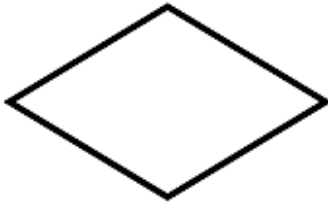






Colorea los paralelogramos en tonos azules y violetas y los no paralelogramos en tonos marrones. Después escribe el nombre de cada cuadrilátero siguiendo esta clave:

P= Paralelogramo   Np= No paralelogramo   C= Cuadrado   R= Rectángulo  
 Rb= Rombo   Rd= Romboide   T= Trapecio   Tz= Trapezoide

<p>1</p>  <p><input type="checkbox"/>   <input type="checkbox"/></p>	<p>2</p>  <p><input type="checkbox"/>   <input type="checkbox"/></p>	<p>3</p>  <p><input type="checkbox"/>   <input type="checkbox"/></p>
<p>4</p>  <p><input type="checkbox"/>   <input type="checkbox"/></p>	<p>5</p>  <p><input type="checkbox"/>   <input type="checkbox"/></p>	<p>6</p>  <p><input type="checkbox"/>   <input type="checkbox"/></p>
<p>7</p>  <p><input type="checkbox"/>   <input type="checkbox"/></p>	<p>8</p>  <p><input type="checkbox"/>   <input type="checkbox"/></p>	<p>9</p>  <p><input type="checkbox"/>   <input type="checkbox"/></p>
<p>10</p>  <p><input type="checkbox"/>   <input type="checkbox"/></p>	<p>11</p>  <p><input type="checkbox"/>   <input type="checkbox"/></p>	<p>12</p>  <p><input type="checkbox"/>   <input type="checkbox"/></p>